

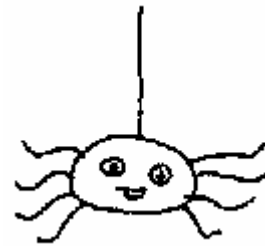


Tibili
Verificà a capiscera CI

Culurisci solu i persunagi di u racontu:




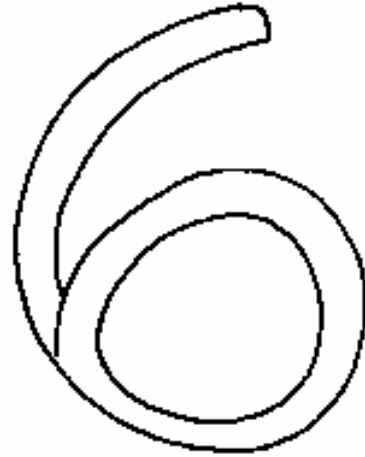
Tibili
Verificazione di a capiscera CII

Mette i numari per ritruvà l'ordine d'apparizione di i persunagi di a fola.



Tibili
Lessicu CI

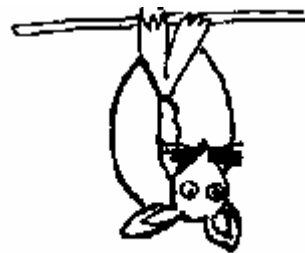

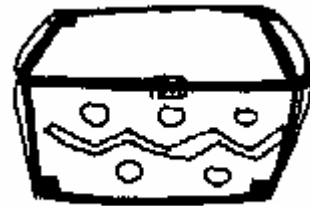
- Culurisci in **rossu** : Tibili
- Culurisci in **turchinu** : a bucertula
- Culurisci in **giallu**: u ragnu
- Culurisci in **verde**: u numaru sei



Tibili
Lessicu CII


Frastaglia e tichette è incolla le sottu à i disegni:

U ragnu	U topu pinnutu	A scimia	E trecce
U tufone	U pentone	A bucertula	A cascetta



Tibili
Lettura CP

Frastaglia e frase è incolla le sottu à i disegni:




Blank box for pasting a word or phrase.



Blank box for pasting a word or phrase.



Blank box for pasting a word or phrase.



Blank box for pasting a word or phrase.

A Tibili li piace à piscà i barraccutà.

Kut Kut ghjoca à risa à Tibili.

Tibili hà trovu a cascetta.

Pi-ou a bucertula hè nantu à un pentone.

Matematiche CP

Ogettivo : Cunnosce i numari sin'à 9.

* Leia ogni seria d'animali à u numaru chì currisponde :



6

7


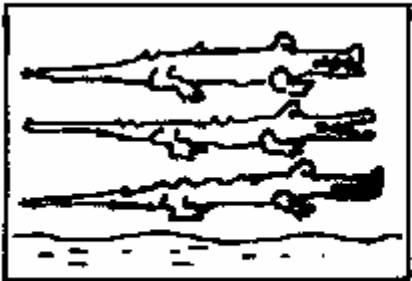
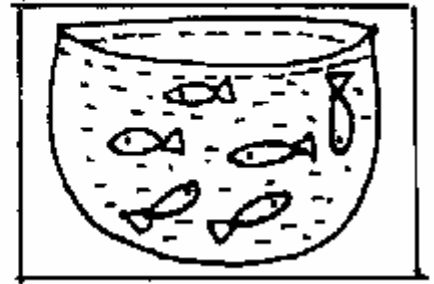
5

8

3

0

4

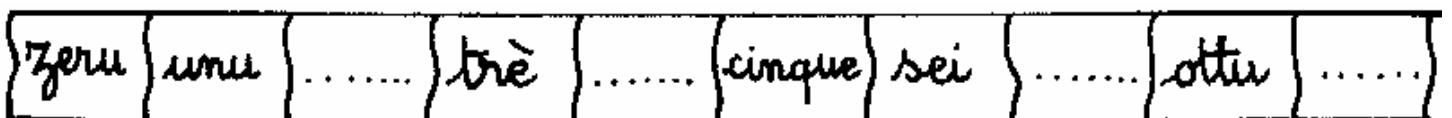


* Cumpletta u frisgiu numericu scrittu

- in sciffri:



- in lettere:






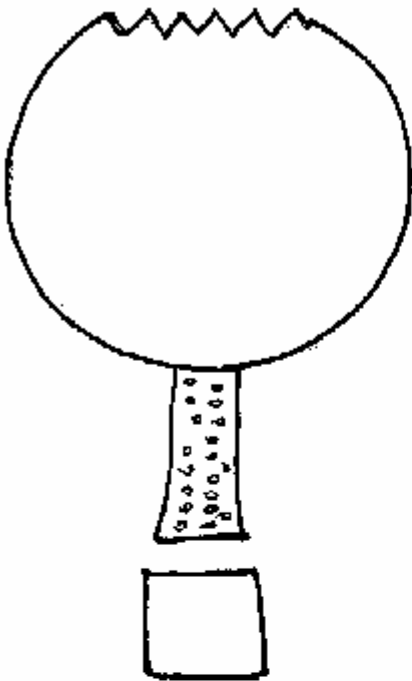


Matematiche CP

Ogettivu: Esse capace à dinumarà è à scrive u numeru chì corrisponde.

* Stallatu nantu à un arburu, Tibili si ghjoca cù e so amiche e scimie.

Conta u numeru di scimie nantu à ogni arburu è scrivi u risultatu nentru à a tichetta.









Matematiche CP

Ogettivi : Esse capace à cumpletà à dece.
Cunnosce e scumpartere di dece.

* Tibili è Kablé coglienu ananassi è banane. Approntanu 8 sporte cù sugne 10 frutti.

- Ingira a sporta cù 10 frutti.

- Dopu, cumpletta ogni sporta per avè 10 frutti.



Matematiche CP

Ogettivu : Esse capace à situassi (à manca, à dritta, davanti, daretu).

Ingiru à u focu...


* Tibili è i s'amichi sò à pisà ingiru à un focu.

Culurisci : Di rossu quellu chì hè à dritta di Tibili.

Di verde quellu chì hè à manca di Tibili.

Di turchinu quellu chì hè daretu à Tibili.

Di giallu quellu chì hè davanti à Tibili.




Matematiche CP

Ogettivu : Esse capace à paragonà quantità è à aduprà u lessicu chì cunvene.

Daretu à a casa di a famiglia di Tibili, campanu l'animali.

Osserva u disegnu.



* Risponde da « iè » o « nò »

Vedi quantu pecure cà bufali?

Vedi quantu ghjalline cà faraone ?

Vedi quantu faraone cà pecure ?

* Cumpletta cù « di più » o « di menu ».

Ci hè bufali cà pecure.

Ci hè ghjalline cà faraone.

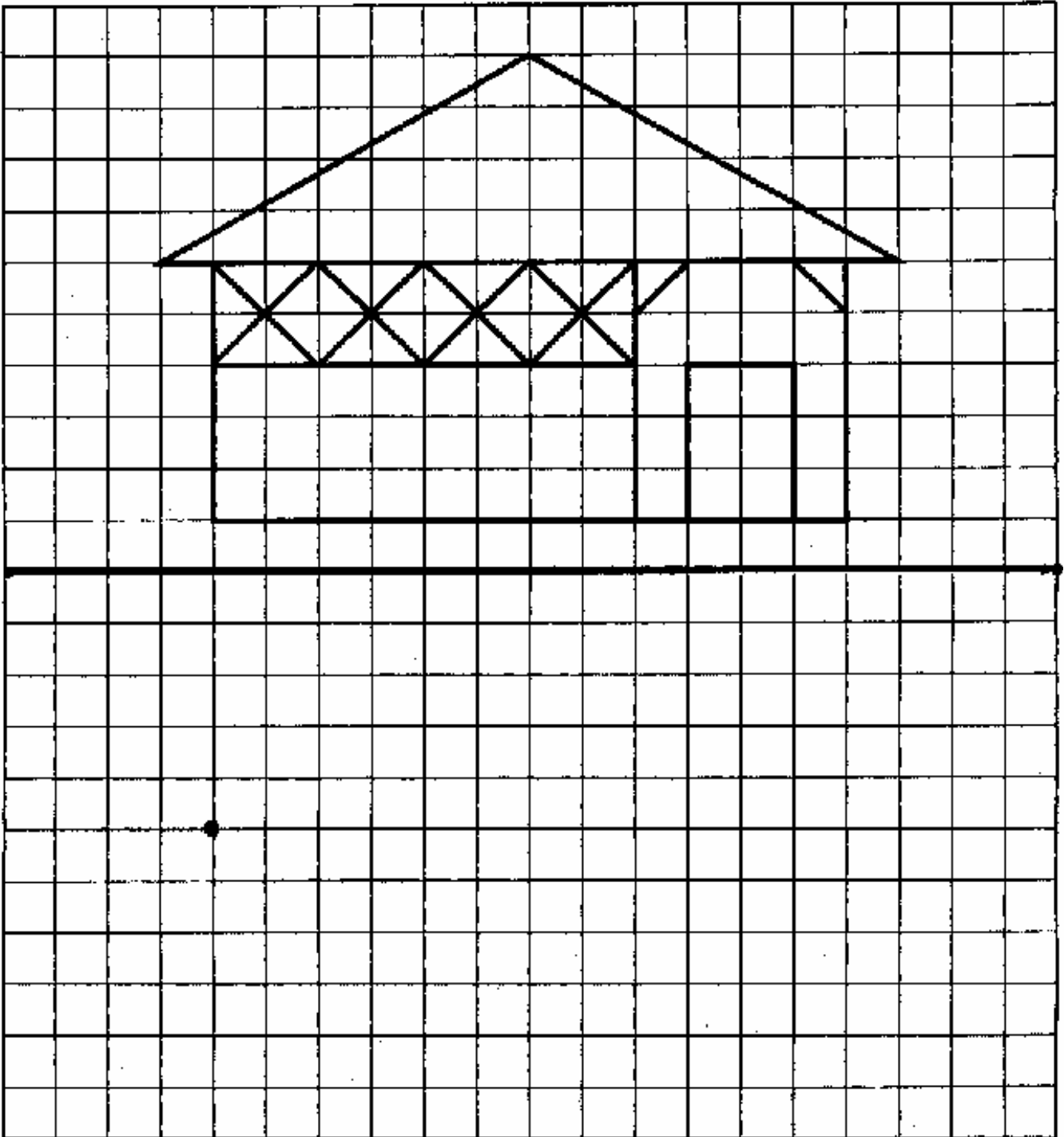
Ci hè bufali cà cani.

Matematiche CP

Ogettivu : Esse capace à aduprà una quattrittera per riprude un disegnu.

Tibili hà disignatu a scola di u paese nantu à una quattrittera.

* Riproduci u disegnu partendu da u puntu. Aiutati da e cantare di a quattrittera.



Matematiche CP

Ogettivu : Esse capace à rispettà un codice è à situassi nantu à a fila numerica (da 0 à 59)

Tibili pesca u barracutà

* Culurisci segundu u codice :

da 10 à 19 turchinu



da 20 à 29



rossu



da

30 à 39 giallu




da 50 à 59



verde

da 40 à 49 castagninu



Matematiche CP

Ogettivu : Esse capace à ricunnosce e forme geumetriche è à rispettà un codice.

U paese di Tibili


* Culurisci u paese di Tibili segundu u codice :

○ → Castagninu

△ → Verde

□ → Giallu

□ → Turchinu



* Quantu conti :

trianguli ?

quatri ?

rettanguli ?

chjerchji ?

Matematiche CP

Ogettivu : Esse capace à aduprà un tavulellu à doppia entrata

A china maghjina

Scrivi induve sò

U cuccudrillu (----,----)

a zebra (----,----)

l'elefante (----,----)

U lionu (----,----)

a scimia (----,----)

a faraona (----,----)








a giraffa (----,----)

Disegna

U ragnu (1,A)

U topu pinnutu (5,C)

U sarpu (3,B)

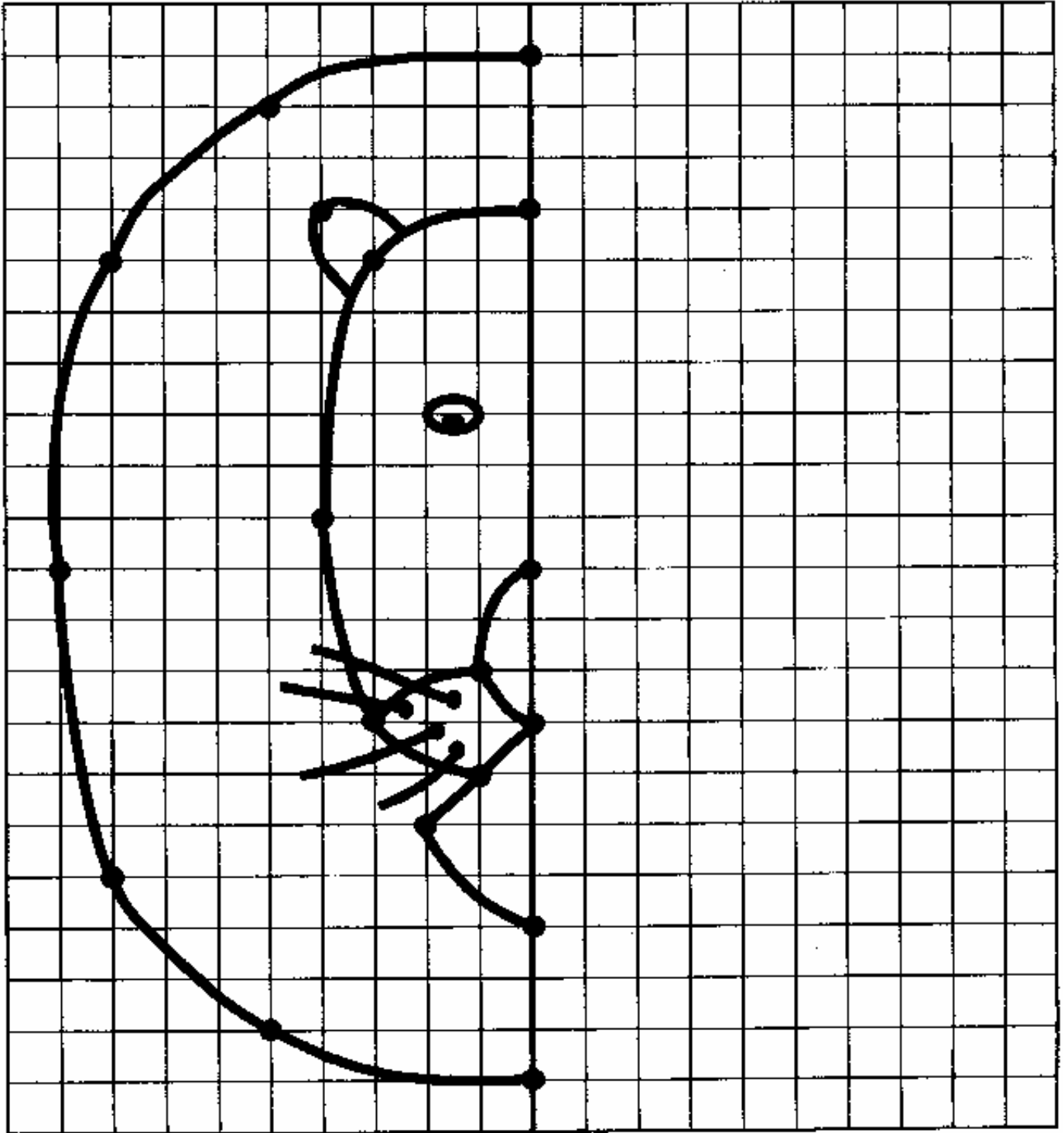
	1	2	3	4	5
A					
B					
C					
D					
E					

Matematiche CP

Ogettivo: Esse capace à aduprà una quattrittera per disignà a figura simetrica.

Tibili si traveste cù i s'amichi. Mette una maschera di lione.

* Traccia l'altra metà di a maschera è culurisci u disegnu.



Matematiche CP

Ogettivu : Esse capace à cuntinuà una seguita logica (dinumarà è paragonà quantità)

Per a festa di u paese, Kablé face 3 cullane. Disegnale.

* Prima cullana

Infila i pippuli segundu u mudellu. Ti tocca à aduprà: 12 pippuli rossi, 15 pippuli gialli, 5 pippuli verdi è 10 pippuli turchini.



* Seconda cullana

Fà listessu travagliu aduprendu: 12 pippuli verdi, 8 pippuli gialli è 16 pippuli turchini.



* Terza cullana

Fà listessu travagliu aduprendu : 5 pippuli gialli, 10 pippuli rossi, 10 pippuli verdi è 10 pippuli turchini.

* Quantu pippuli aduprati per ogni cullana



1a cullana : -----

2a cullana : -----

3a cullana : -----

* Paraguneghja i trè numari





----- < ----- < -----

Matematiche CP

Ogettivu : Esse capace à paragonà masse è à aduprà u lessicu chì cunvene (legeru/pisiu)

Tibili si ghjoca à pisà i s'amichi dui à dui.

* Ingira à ogni volta u più pisiu tramindui.



* Cumpletta cù « legeru / legera » o « pisiu / pisia » :

A giraffa hè di più ----- cà u cane.

U cane hè di più ----- cà a giraffa.

A faraona hè di più ----- cà u tupichjulu.

U tupichjulu hè di più ----- cà a faraona.

L'elefante hè di più ----- cà u lionu.

U lionu hè di più ----- cà l'elefante.

A bucertula hè di più ----- cà u cuccudrillu.

U cuccudrillu hè di più ----- cà a bucertula.

Matematiche CE1

Ogettivu : Esse capace à aduprà un codice è à situassi nantu à un tavulellu à doppia entrata.

U pozzu à i cuccudrilli












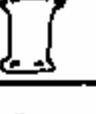




Tibili vole franca u pozzu à i cuccudrilli. Deve passà nantu à i scogli per ùn fassi sciaccà.

- Feghja u tavulone è scrivi induve sò i scogli.

(B,)



















(.....,)

(.....,)

A				
B				
C				
D				
	1	2	3	4

Di l'altra parte di u pozzu, Tibili infatta un amicu.

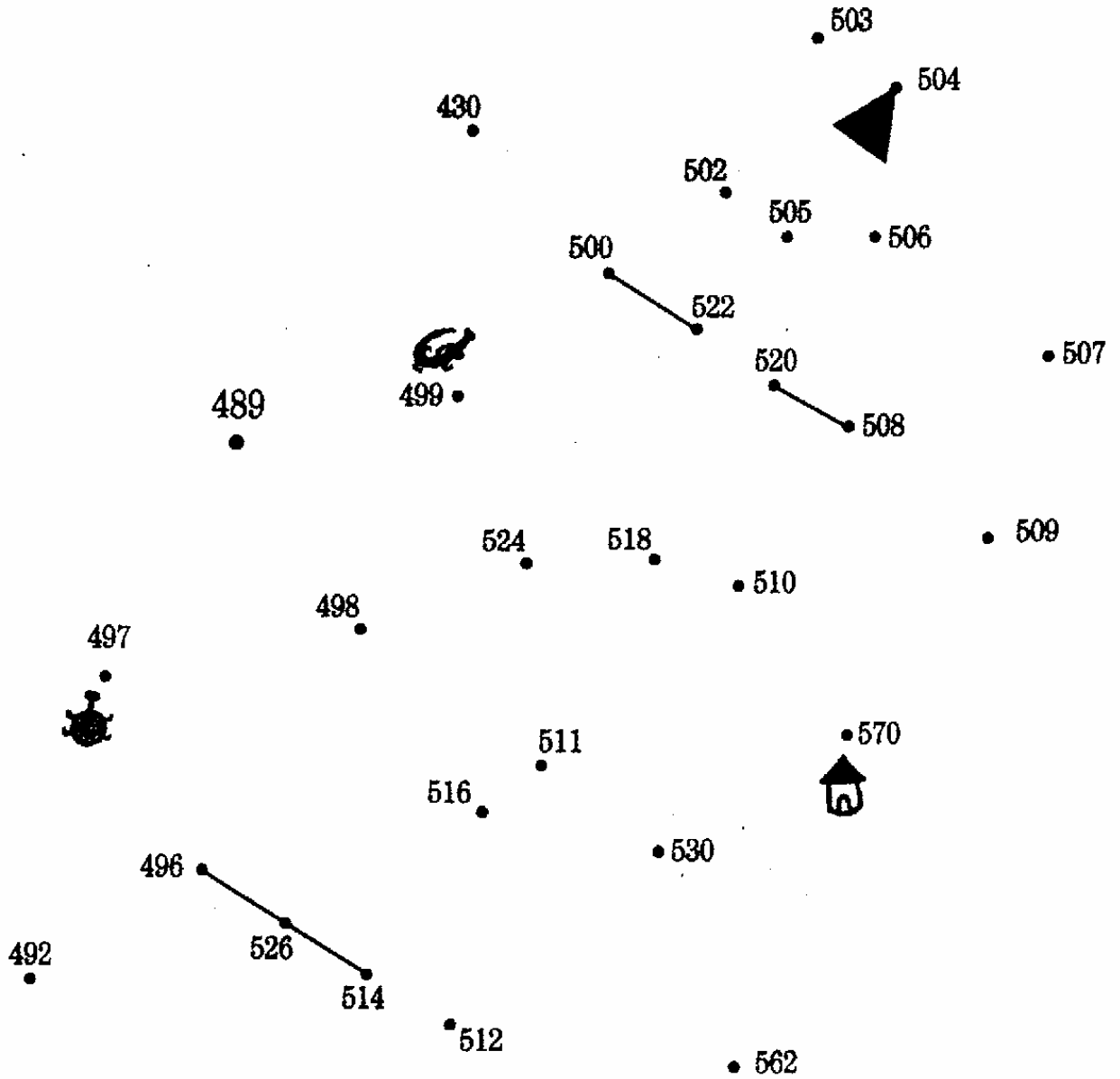
- Ritrova u nome seguitendu u codice.

					( , )	<input style="width: 50px; height: 30px;" type="text"/>
	B	C	G	I	( , )	<input style="width: 50px; height: 30px;" type="text"/>
	O	M	S	V	( , )	<input style="width: 50px; height: 30px;" type="text"/>
	L	T	R	K	( , )	<input style="width: 50px; height: 30px;" type="text"/>
	A	F	N	U	( , )	<input style="width: 50px; height: 30px;" type="text"/>

Matematiche CE1

Ogettivu : Esse capace à leghje è à scrive i numari al dilà di 100.

- Per truvà ciò ch'ellu adopra Tibili à a scola, leia i punti di 2 in 2. Cummencia à partesi da u puntu 496.
- Scrivi in lettere i numari ch'è currispondenu à i simboli.





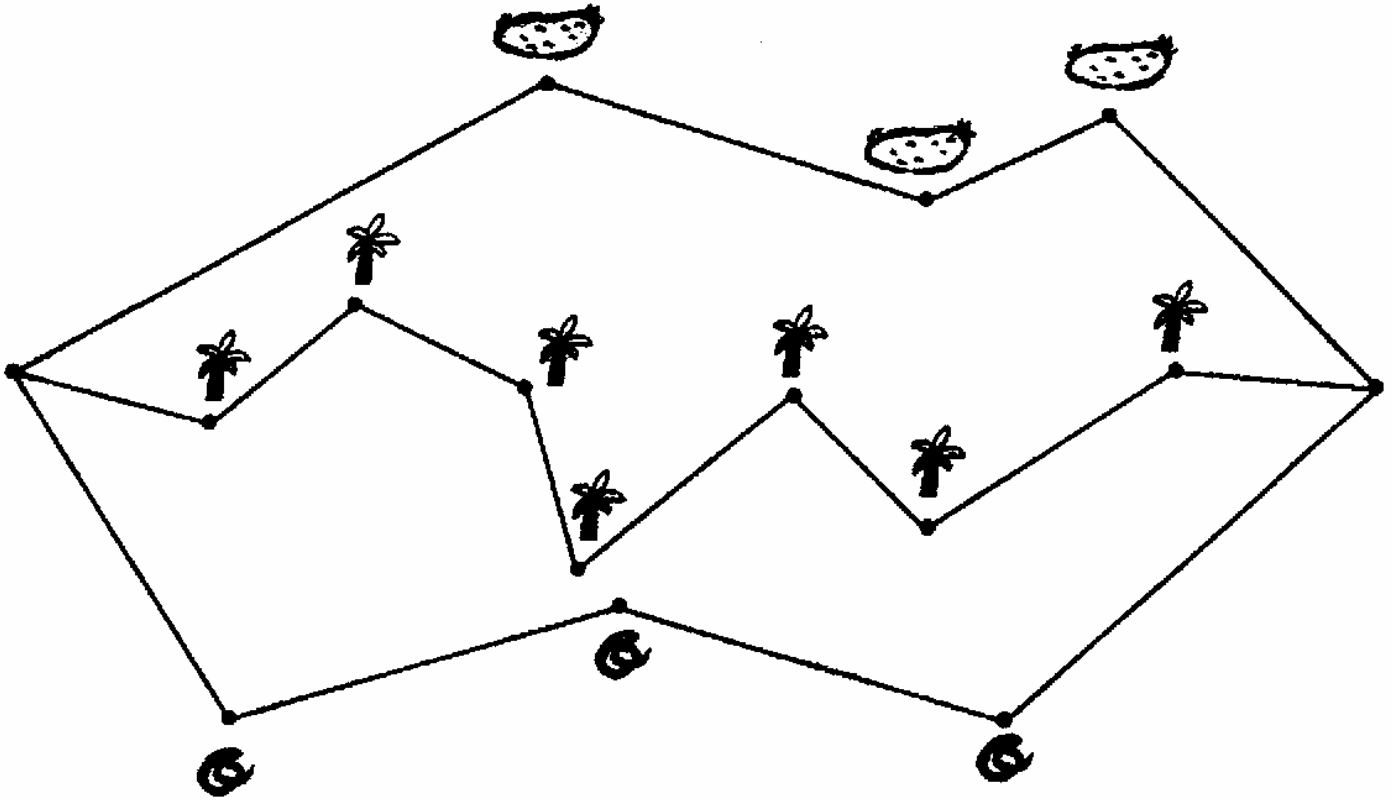


Matematiche CE1

Ogettivo : Esse capace à aduprà un doppiu decimetru è calculà lungure cù l'unità ghjusta (u cm).

A strada a più corta

Oghje, Tibili và à fà una visita à a mammane ch'è campu in un paese vicinu. A mamma li dà un biscottu è li prupone trè strade. Ma qualesa hè a più corte ?



- Misura i sicamenti cù a riga è trova a lungura d'ogni strada.

Strada di i sarpi : + + + =

Strada di i palmi : + + + + + + + =

Strada di i pozzi : + + + =

A strada a più corte hè :

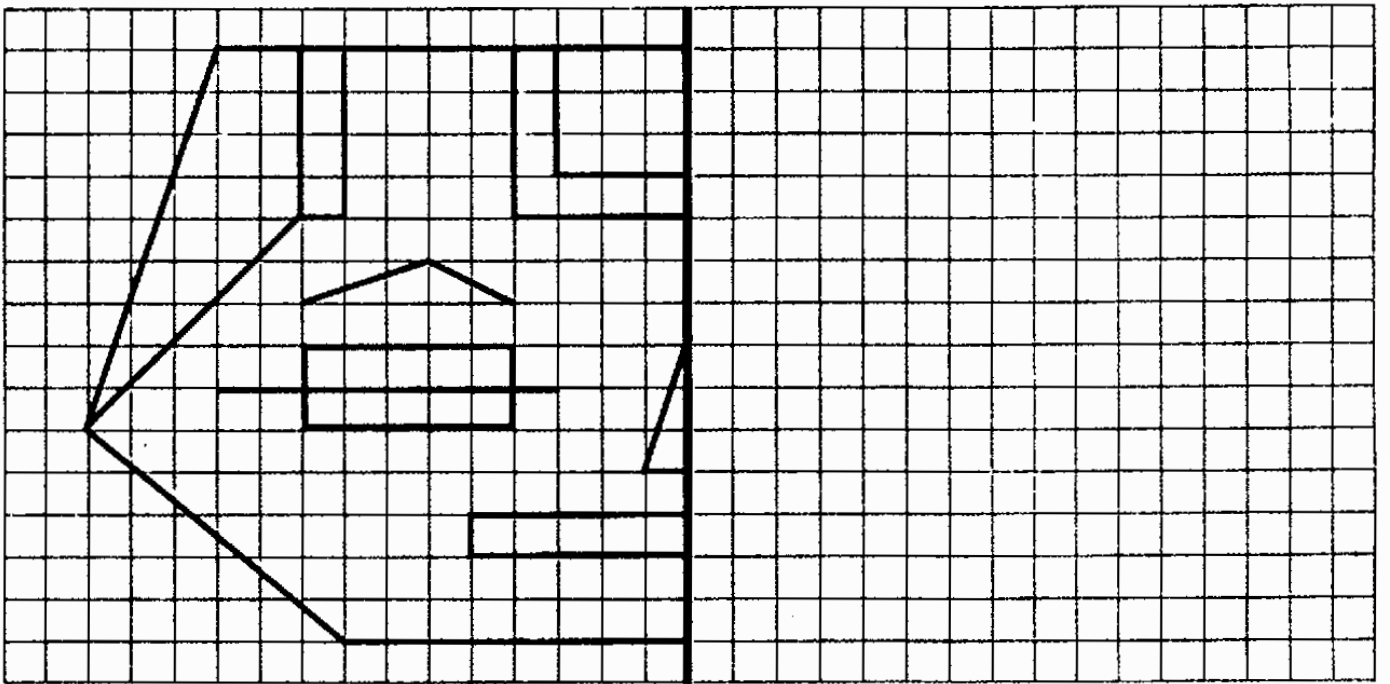
Matematiche CE1

Ogettivu : Esse capace à aduprà una quattritiera per disignà figure geumetriche.

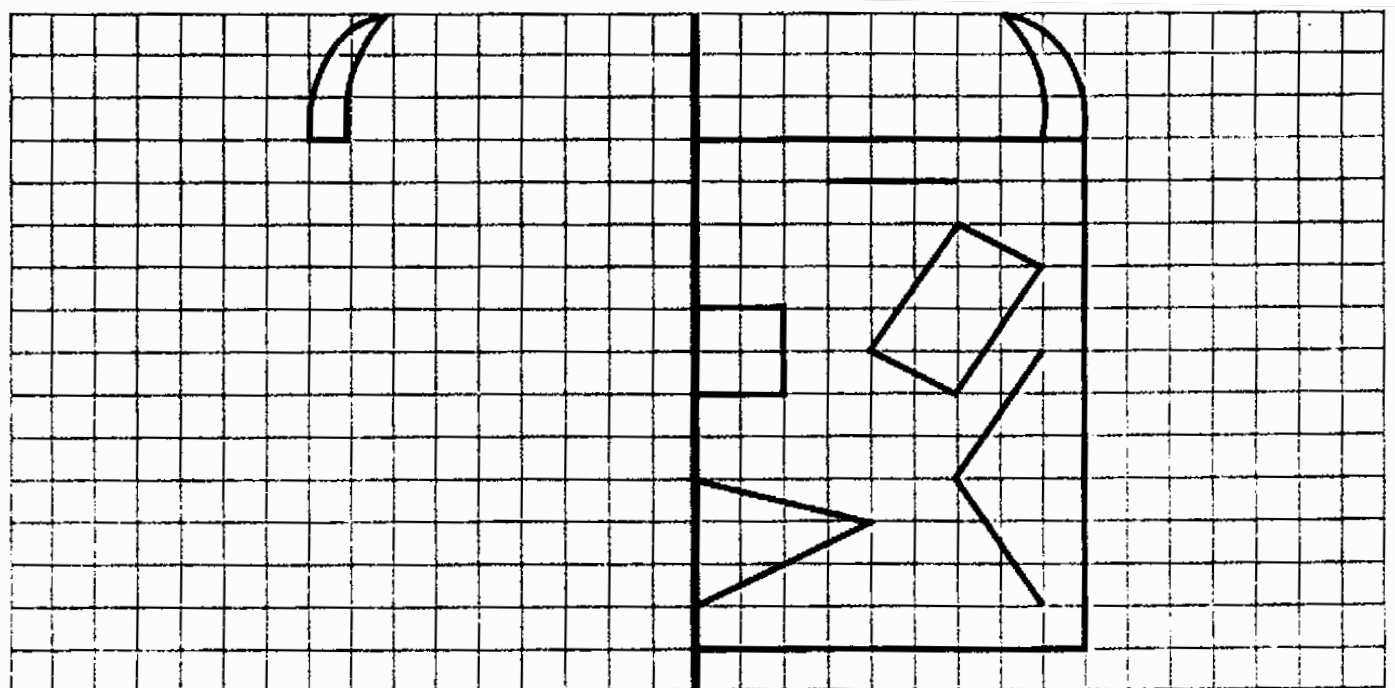
Hè festa in paese di Tibili !

Tuttu u mondu deve purtà u vestitu u più bellu è fà a maschera a più bella.

***Aiuta à Tibili a compie a soia.**



*** Cuntinueghja à disignà a maschera di Kablé.**



Matematiche CE1

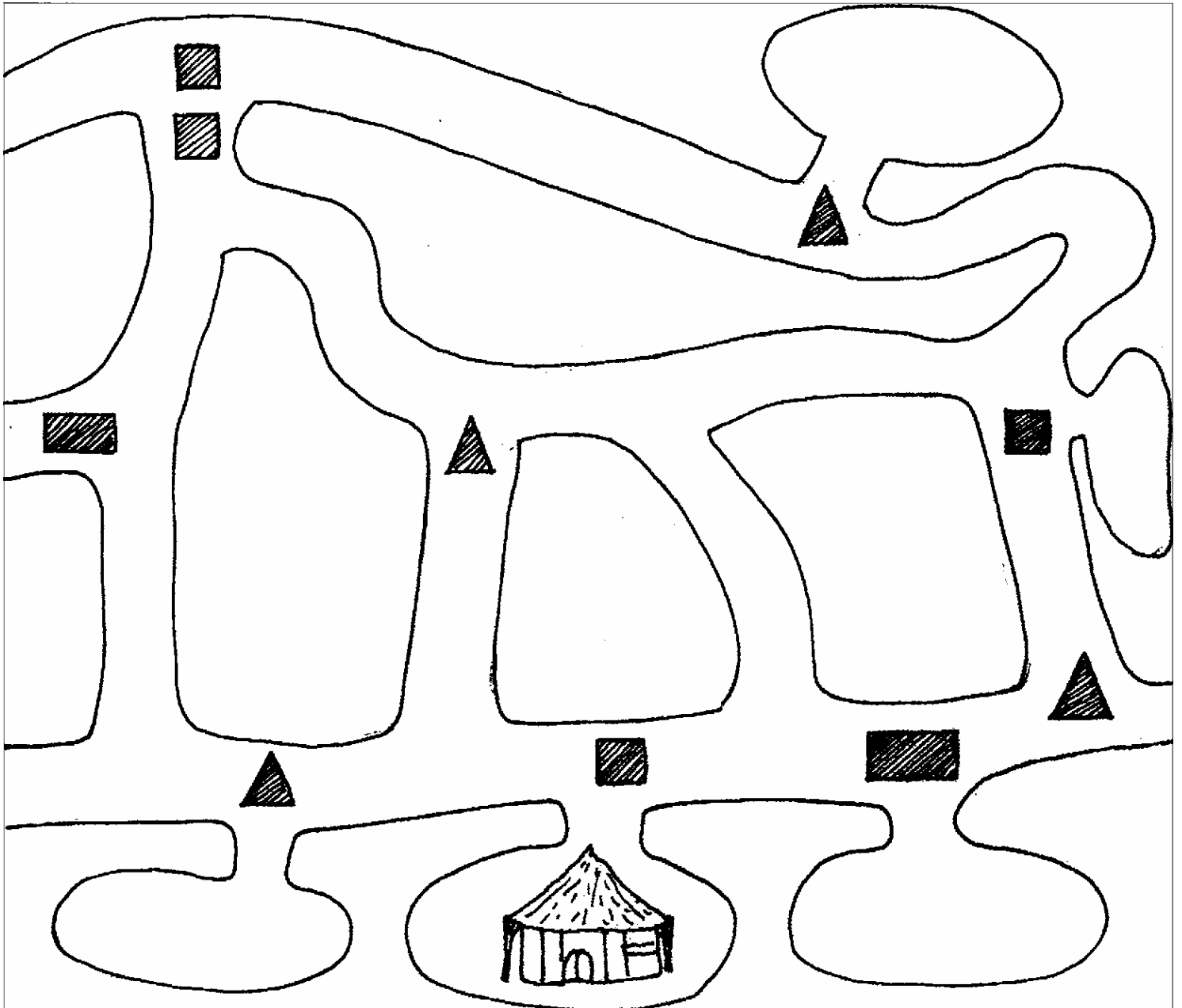
Ogettivu : Esse capace à ammaestrà u spaziu è à ricunnosce forme geometriche ;

Induve hè u marcatu ?

Tibili è a mamma lascianu a casa per andà à u marcatu.

- Quand'elli trovanu un quattru, giranu à dritta.
- Quand'elli trovanu un rettangulu, vanu dirittu.
- Quand'elli trovanu un triangulu, giranu à manca.

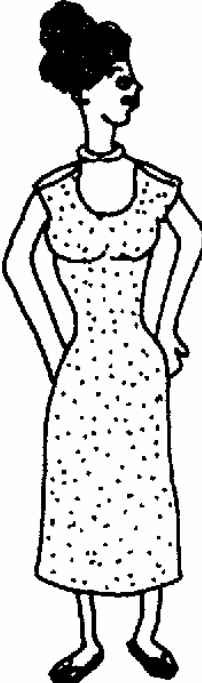
* Traccia a strada di Tibili è di a mamma. Pò scrivi induve si trova u marcatu.




Matematiche CE1

Ogettivu : Esse capace à paragonà è à classificà numari.

Induve serà Tibili ? A mamma l'hà persu à u marcatu. Aiutala à ritruvallu.
Poi andà d'una cantara à l'altra à passera () o à falera () ma sempre versu un numaru maiò. Culurisci a cantare.



	235	203	322	156	956
Partenza →					
	235	153	463	365	257
	353	533	563	536	357
	343	503	653	753	765
	569	275	635	735	537



Per ringraziarti, a mamma di Tibili ti manda un messaghju sicretu.
Ogni numaru raprisenta una lettera.

254 → I 362 → R 623 → T 312 → F 326 → O
 632 → E 245 → S

* Metti sti numari in ordine da u più chjucu à u più maiò.

..... < < < < < <

* Avà, ai trovu u messaghju di a mamma di Tibili.

---- ---- --- --- --- --- --- !